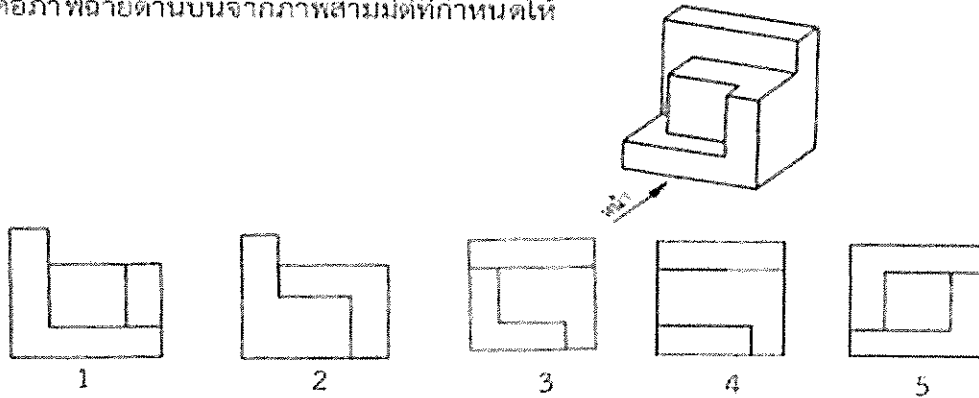


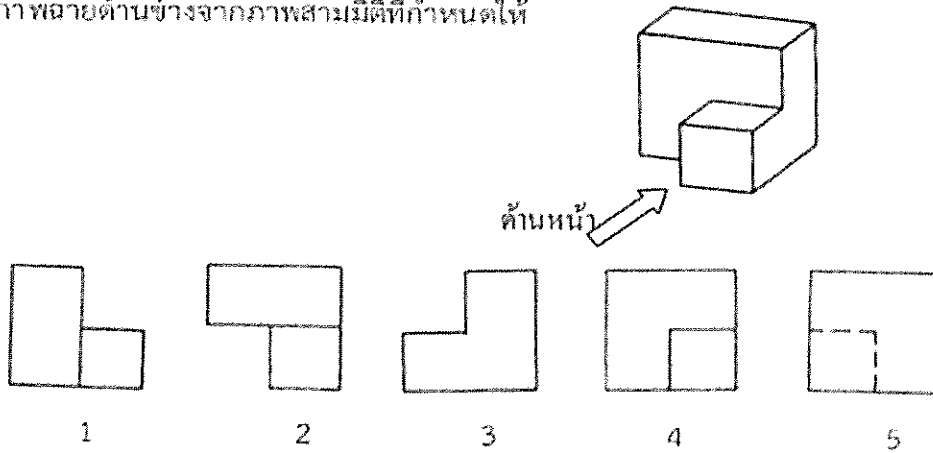
แบบทดสอบ
วิชา เขียนแบบเทคนิคเบื้องต้น

คำชี้แจง ข้อสอบเป็นชนิดเลือกตอบ 5 ตัวเลือก จำนวน 20 ข้อ
คำสั่ง จงเลือกคำตอบที่ถูกต้องที่สุดเพียงคำตอบเดียว

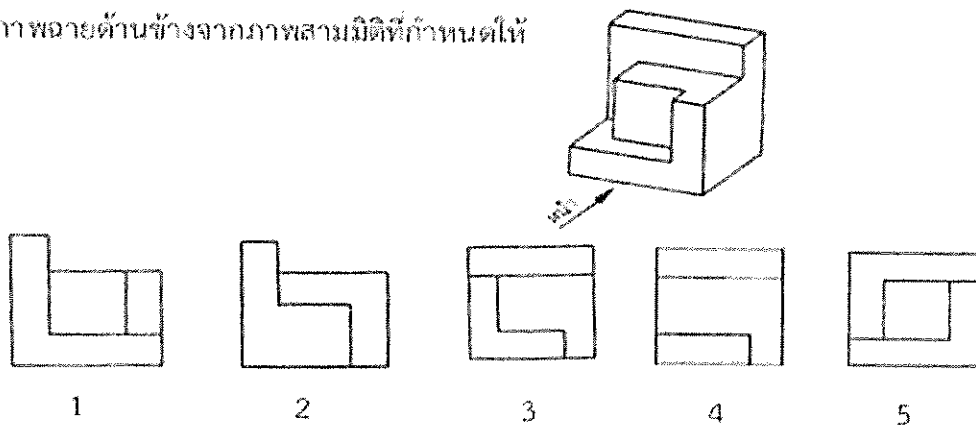
1. ข้อใดคือภาพฉายด้านบนจากภาพสามมิติที่กำหนดให้



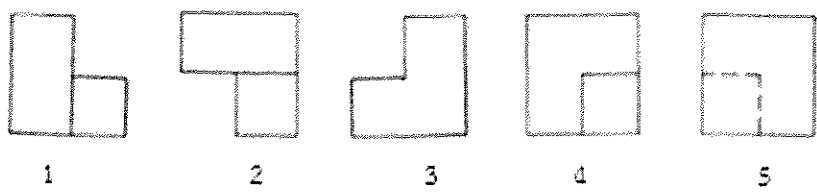
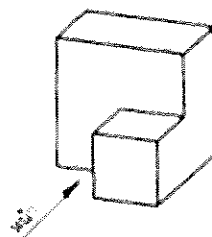
2. ข้อใดคือภาพฉายด้านข้างจากภาพสามมิติที่กำหนดให้



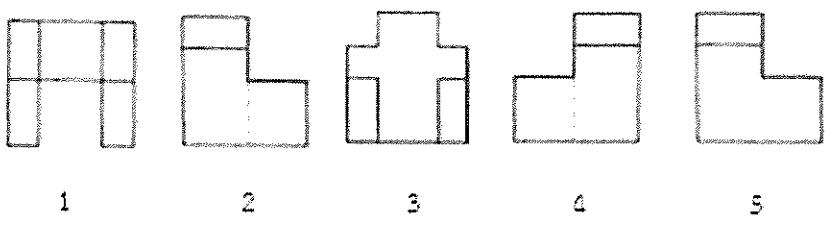
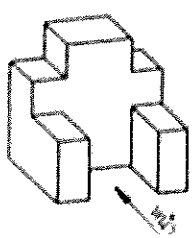
3. ข้อใดคือภาพฉายด้านข้างจากภาพสามมิติที่กำหนดให้



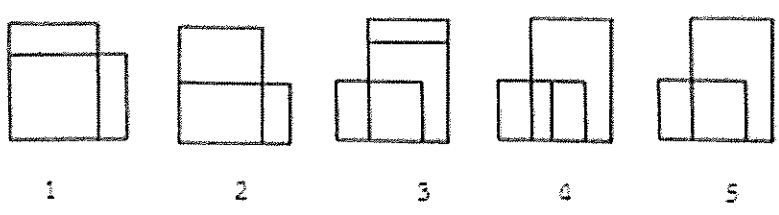
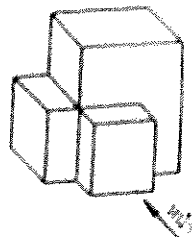
4. ข้อใดคือภาพฉายด้านบนจากภาพสามมิติที่กำหนดให้



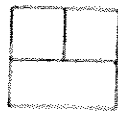
5. ข้อใดคือภาพฉายด้านข้าง(ซ้าย)จากภาพสามมิติที่กำหนดให้




6. ข้อใดคือภาพฉายด้านหน้าจากภาพสามมิติที่กำหนดให้



7. ข้อใดคือภาพฉายด้านหน้าจากภาพสามมิติที่กำหนดให้



1




2



3

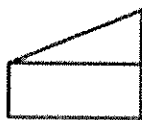
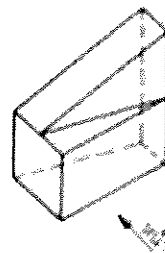


4



5

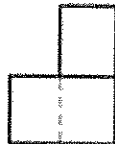
8. ข้อใดคือภาพฉายด้านข้างจากภาพสามมิติที่กำหนดให้



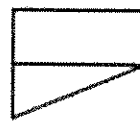
1




2



3


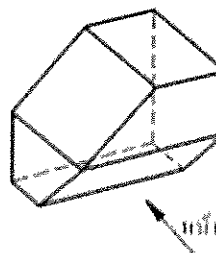


4

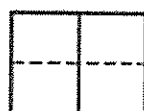


5

9. ข้อใดคือภาพฉายด้านบนจากภาพสามมิติที่กำหนดให้



1



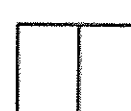
2



3

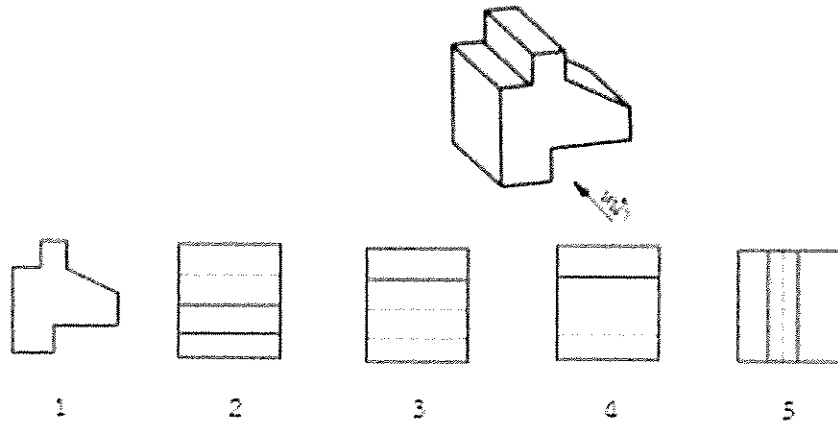


4

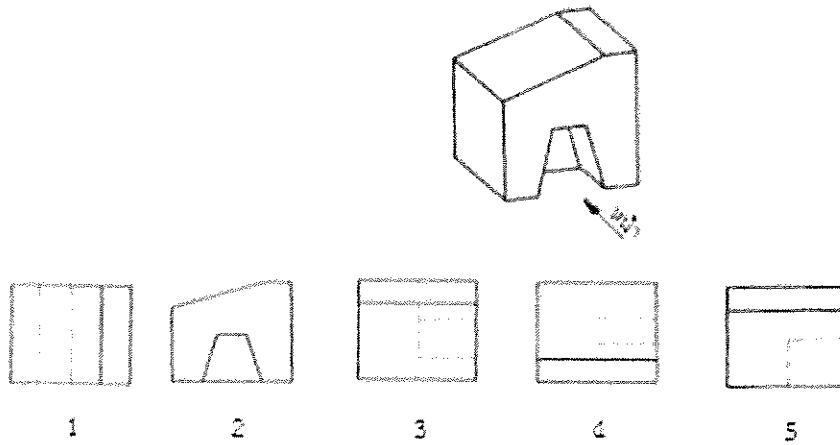


5

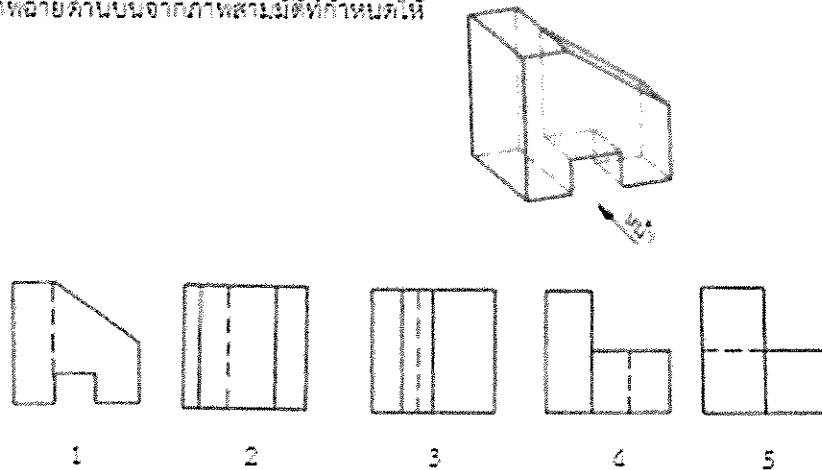
10. ข้อใดคือภาพฉายด้านข้างจากภาพสามมิติที่กำหนดให้



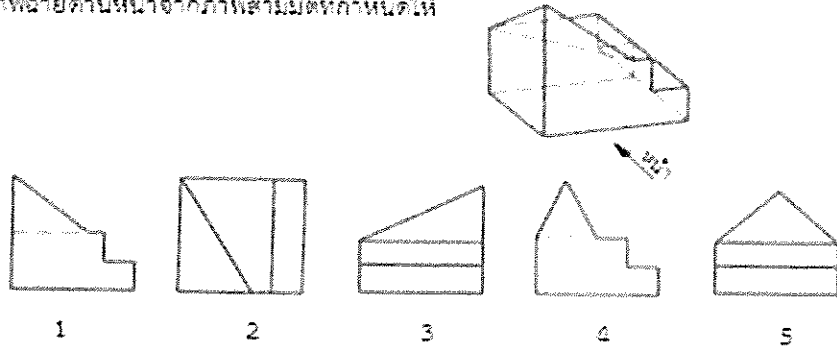
11. ข้อใดคือภาพฉายด้านข้างจากภาพสามมิติที่กำหนดให้



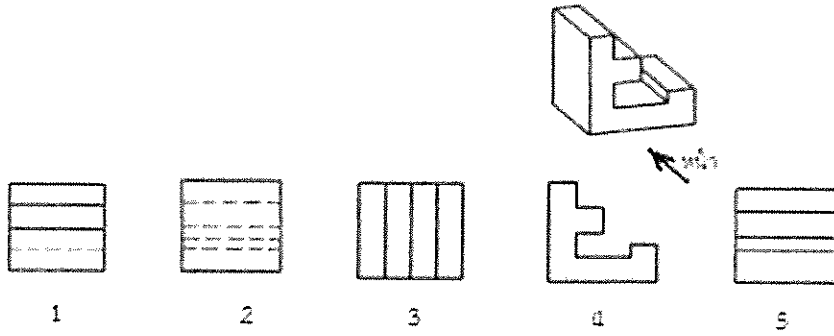
12. ข้อใดคือภาพฉายด้านบนจากภาพสามมิติที่กำหนดให้



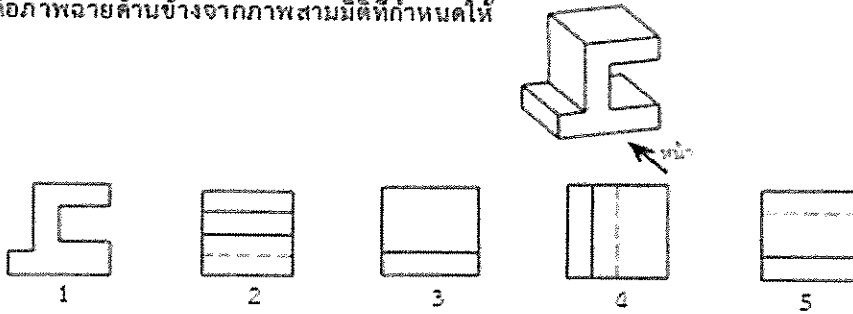
13. ข้อใดคือภาพฉายด้านหน้าจากภาพสามมิติที่กำหนดให้



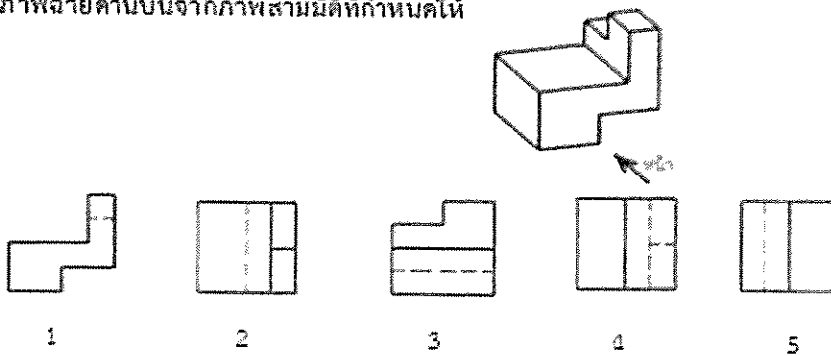
14. ข้อใดคือภาพฉายด้านบนจากภาพสามมิติที่กำหนดให้



15. ข้อใดคือภาพฉายด้านข้างจากภาพสามมิติที่กำหนดให้



16. ข้อใดคือภาพฉายด้านบนจากภาพสามมิติที่กำหนดให้



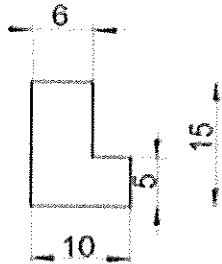
17 . ข้อใดคือมาตราส่วนขยาย

1. 1:2 2. 1:5 3. 5:1 4. 2:4 5. 10:100

18 . ข้อใดไม่ใช่มาตราส่วนตามมาตรฐาน

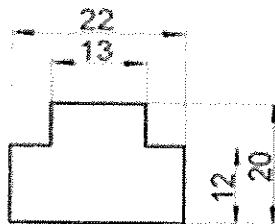
1. 1:2 2. 1:4 3. 1:5 4. 5:1 5. 1:100

19 . การกำหนดขนาดตัวใดที่เขียนไม่ถูกต้องตามมาตรฐานการบอกขนาด



1. ขนาด 6
2. ขนาด 10
3. ขนาด 15
4. ขนาด 5
5. ทุกขนาดเขียนได้ถูกต้อง

20 . การเขียนเส้นช่วยบอกขนาดตัวใดที่เขียนยังไม่ถูกต้องตามมาตรฐานการบอกขนาด



1. ขนาด 22
2. ขนาด 13
3. ขนาด 20
4. ขนาด 12
5. ทุกขนาดเขียนได้ถูกต้อง